

教えて数学 第8回 学習プリント No1 中1関数

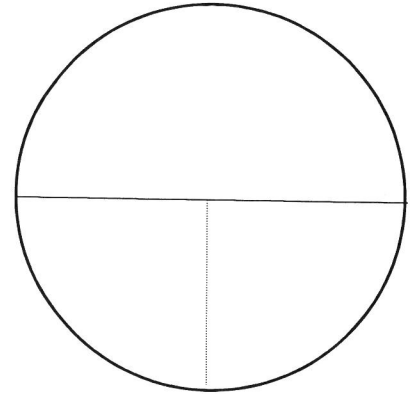
速さ・時間・道のり「練習1」

年 組 番 氏名 ()

道のり =

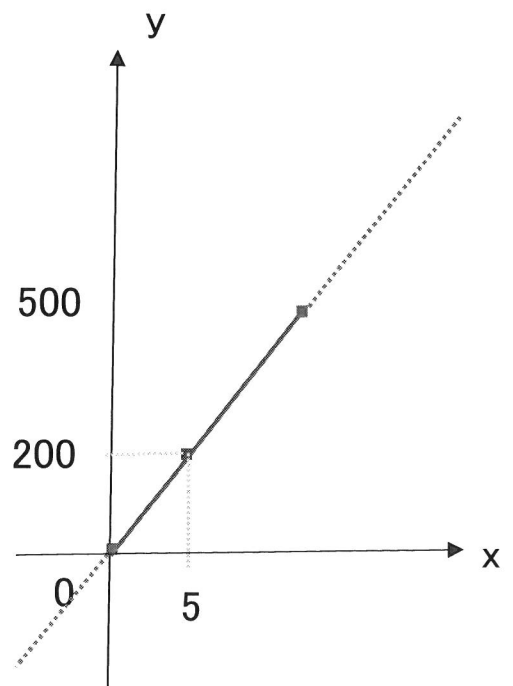
速さ =

時間 =



問 Aさんは、家から学校までゆっくり歩いて登校した様子を表したのが右のグラフです。

①分速何mですか。

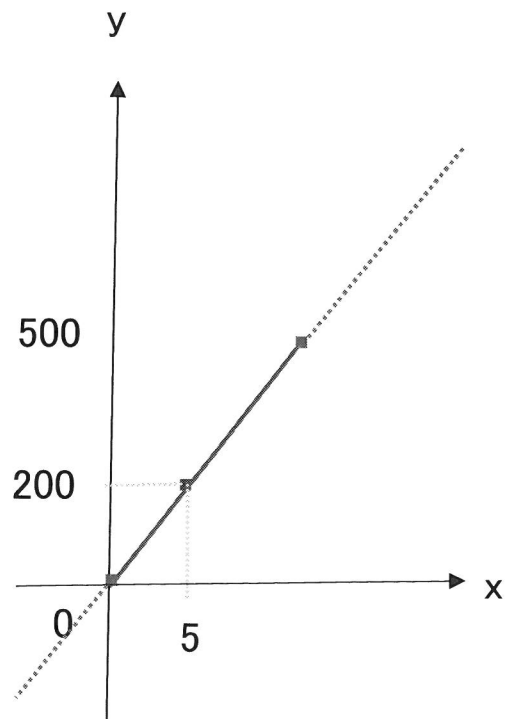


教えて数学 第8回 学習プリント No2 中1関数

速さ・時間・道のり「練習1」

年 組 番 氏名 ()

② x と y は、何を表していますか。言葉で答えなさい。



③ x, y の関係を式に表しなさい。

④ x と y の変域を求めなさい。