

教えて数学 第9回 学習プリント No1 中1関数

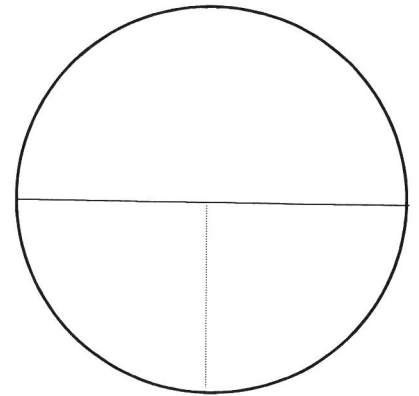
速さ・時間・道のり「練習1」

年 組 番 氏名 ()

道のり =

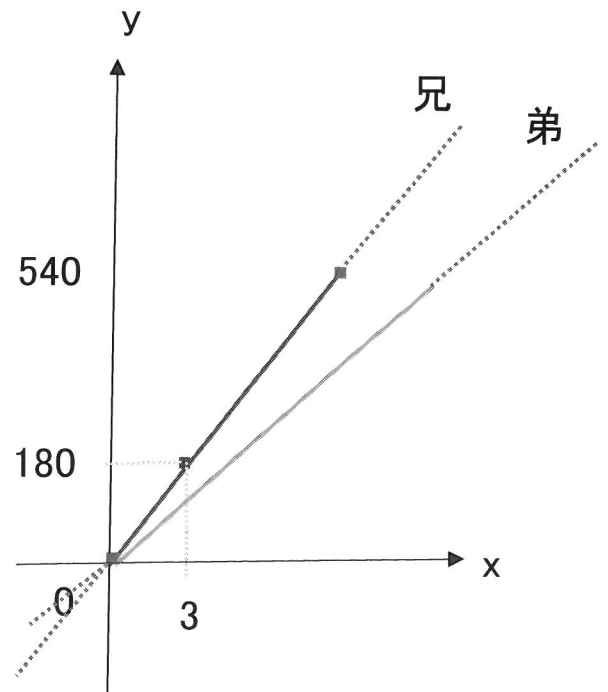
速さ =

時間 =



問 兄と弟が、家から 540m 離れた学校まで、歩いて登校した様子を表したのが右のグラフです。

①兄と弟の分速はそれぞれ何mか求めなさい。

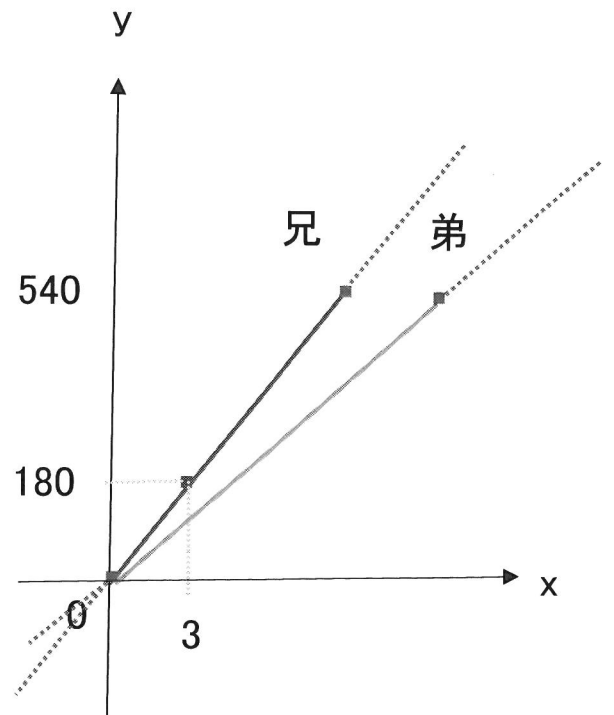


教えて数学 第9回 学習プリント No2 中1関数

速さ・時間・道のり「練習1」

年 組 番 氏名 ()

②兄が学校に着いたとき、弟は学校まで残り何mありますか。



③ 弟が家を出てから学校に着いたときまでの、 x の変域を不等号で表しなさい。