

表・式・グラフ

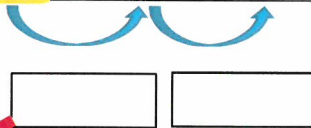
年 組 番 氏名 ()

関数 (一次関数)

- ・表を完成しなさい。
- ・□をうめなさい。
- ・(①) に適切な言葉 (②) に数を答えなさい。

表

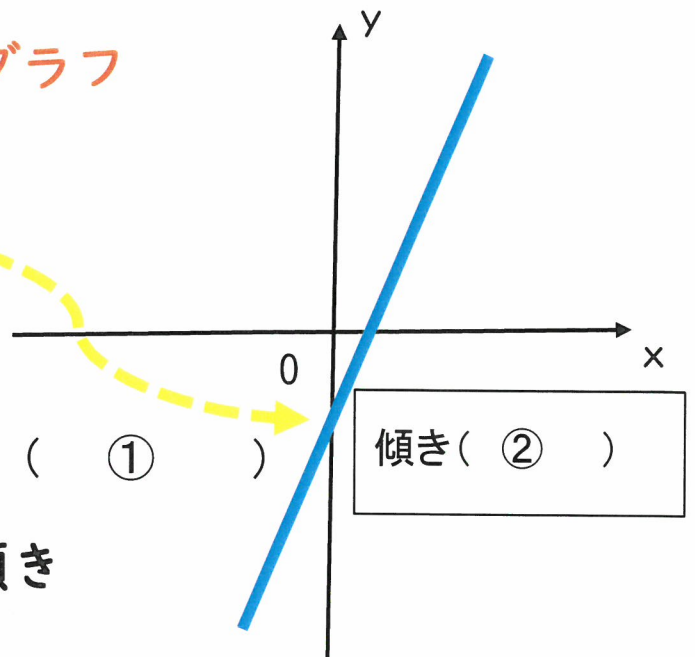
x	...	-2	-1	0	1	2	3	...
y	...			-1	1			...



式

$y = \square x + \square$

グラフ



変化の割合 = = 傾き

表・式・グラフ

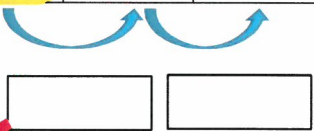
年 組 番 氏名 ()

関数 (一次関数)

- ・ 表を完成しなさい。
- ・ □をうめなさい。
- ・ (①) に適切な言葉 (②) に数を答えなさい。

表

x	...	-2	-1	0	1	2	3	...
y	...			2	-1			...



式

$y = \square x + \square$

グラフ

(①)

傾き (②)

