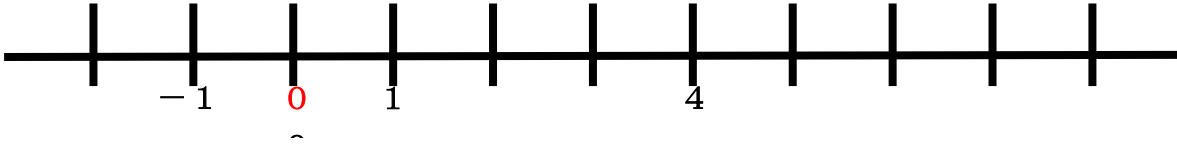


## 正の数・負の数

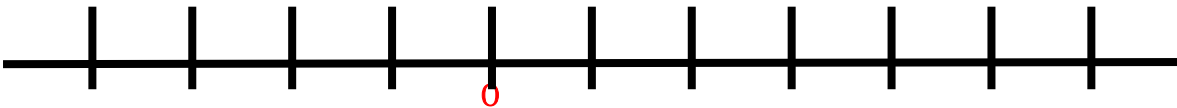
第6回「数直線を使って求める。」1回目 プリント

例1 4より3大きい数はいくつですか。



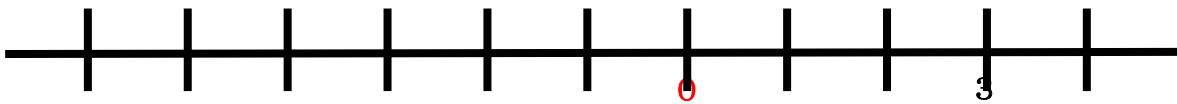
答え \_\_\_\_\_

問1 -3より7大きい数はいくつですか。



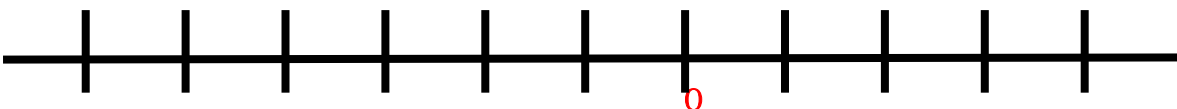
答え \_\_\_\_\_

例2 3より8小さい数はいくつですか。



答え \_\_\_\_\_

問2 2より5小さい数はいくつですか。

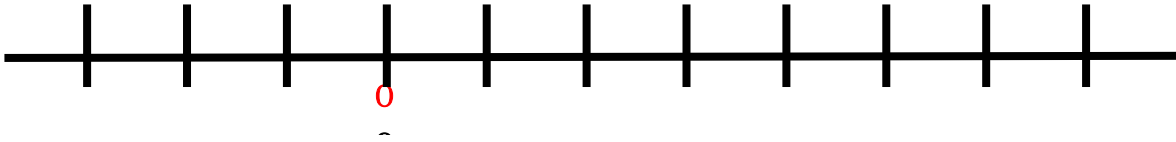


答え \_\_\_\_\_

## 正の数・負の数

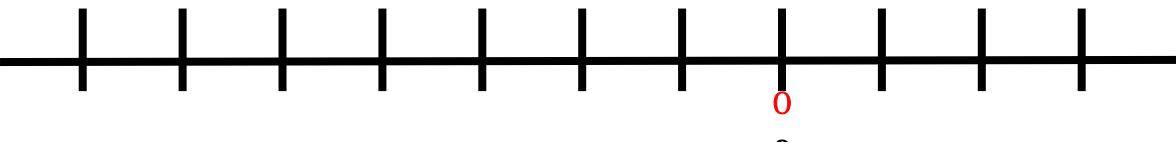
第6回「数直線を使って求める。」1回目 練習問題プリント  
問 次の問いに答えなさい。

(1) 下の数直線を使って、 $-2$ より7大きい数を求めなさい。



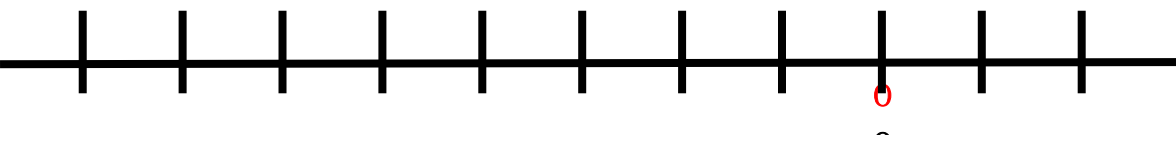
答え \_\_\_\_\_

(2) 下の数直線を使って、 $-5$ より3大きい数を求めなさい。



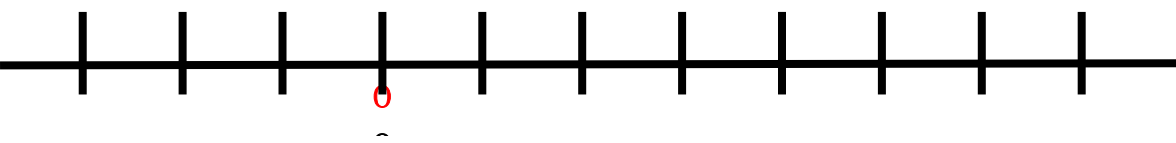
答え \_\_\_\_\_

(3) 下の数直線を使って、2より9小さい数を求めなさい。



答え \_\_\_\_\_

(4) 下の数直線を使って、 $-1$ より5小さい数を求めなさい。



答え \_\_\_\_\_