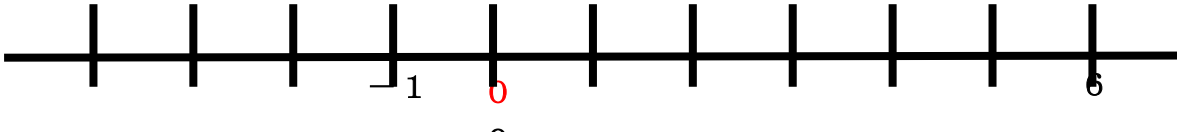


## 正の数・負の数

第7回「数直線を使って求める。」2回目 プリント

例3 6より-9大きい数はいくつですか。

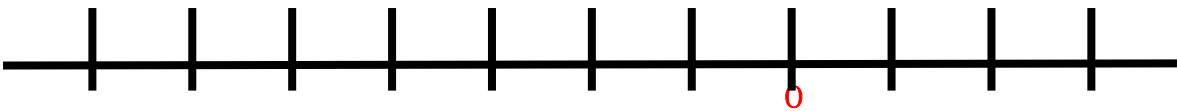
6より                    はいくつですか。



答え \_\_\_\_\_

問3 -2より-3大きい数はいくつですか。

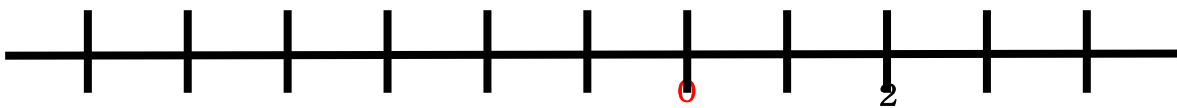
-2より                    はいくつですか。



答え \_\_\_\_\_

例4 2より-6小さい数はいくつですか。

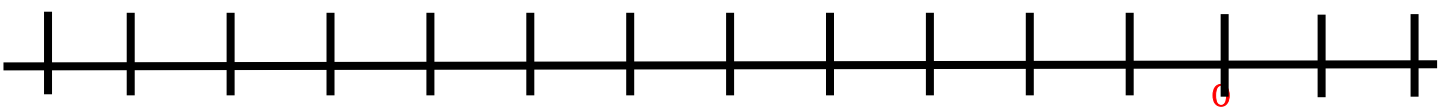
2より                    はいくつですか。



答え \_\_\_\_\_

問2 -10より-9小さい数はいくつですか。

-10より                    はいくつですか。

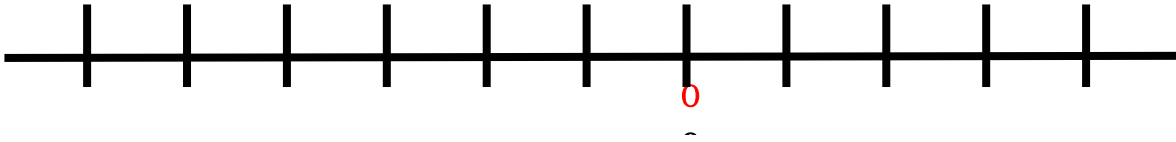


答え \_\_\_\_\_

## 正の数・負の数

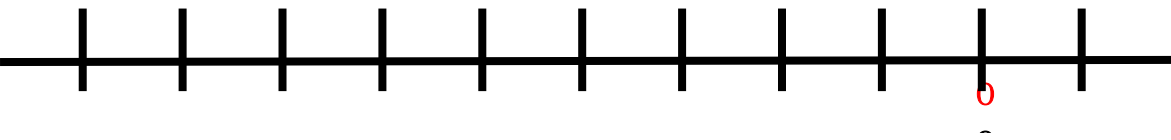
第7回「数直線を使って求める。」2回目 練習問題プリント  
問 次の問いに答えなさい。

(1) 下の数直線を使って、1より-7大きい数を求めなさい。



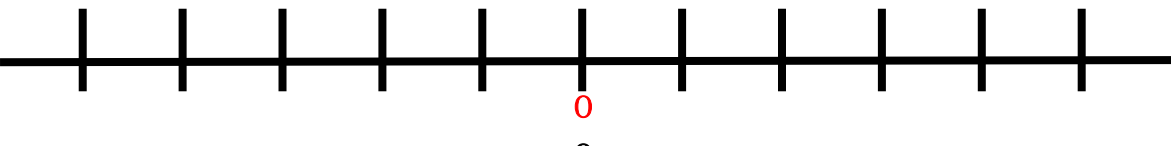
答え \_\_\_\_\_

(2) 下の数直線を使って、-5より-3大きい数を求めなさい。



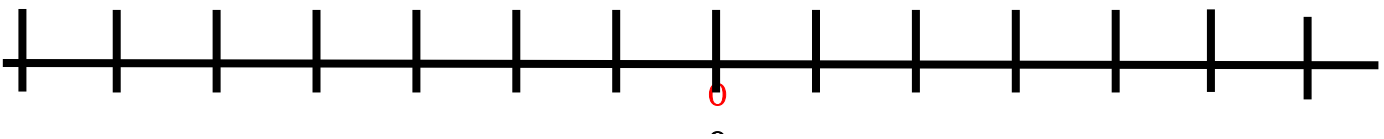
答え \_\_\_\_\_

(3) 下の数直線を使って、3より-2小さい数を求めなさい。



答え \_\_\_\_\_

(4) 下の数直線を使って、-3より-3小さい数を求めなさい。



答え \_\_\_\_\_

復習 意味を変えないで他の言葉で表しなさい。

(1)  $-4$  大きい数  $\Rightarrow$  ( )

(2)  $-9$  小さい数  $\Rightarrow$  ( )

(3)  $-15$  小さい数  $\Rightarrow$  ( )

(4)  $-3.9$  大きい数  $\Rightarrow$  ( )